

6. Do klasy przyniesiono 16 kartoników mleka w pojemnikach ćwierćlitrowych.





2 p.

Ile to litrów?

Ile można napełnić tym mlekiem pojemników półlitrowych?

7. W każdym rzędzie pokoloruj pole z godziną, która będzie za 25 minut.

2 p.

			
6:05	12:35	8:35	11:30
7:15	13:00	8:45	11:25
6:20	13:05	9:00	11:35

8. Uzupełnij okienka.

godzina to

 minut

minuta to

 sekund

pół godziny to

 kwadrans

Minęło 50 sekund. Do pełnej minuty brakuje

 sekund.

2 p.

Ogólna liczba punktów:

27 p.

Ocena nauczyciela:

6. Do klasy przyniesiono 8 kartoników mleka w pojemnikach półlitrowych.





2 p.

Ile to litrów?

Ile można napełnić tym mlekiem pojemników ćwierćlitrowych?

7. W każdym rzędzie pokoloruj pole z godziną, która będzie za 25 minut.

2 p.

			
6:05	11:35	7:50	12:30
6:10	11:45	7:45	13:05
6:25	12:00	8:05	13:30

8. Uzupełnij okienka.

2 p.

godzina to

 kwadranse

pół minuty to

 sekund

pół godziny to

 minut

Minęło 55 sekund. Do pełnej minuty brakuje

 sekund.

Ogólna liczba punktów:

27 p.

Ocena nauczyciela: